



مشاوره تحصیلی تمصیلیکو

مشاوره تخصصی ثبت نام مدارس ، برنامه ریزی درسی و
آمادگی برای امتحانات مدارس

برای ورود به صفحه مشاوره مدارس کلیک کنید



تماس با مشاور تحصیلی مدارس

۹۰۹۹۰۷۱۷۸۹



تماس از تلفن ثابت


۱- تعداد هر تصویر را نوشته و هر جا لازم بود علامت $< = >$ قرار بده.



۲- برای تفریق داده شده شکل بکشید و باقی مانده را بدست آورید.

$$8 - 5 =$$

۳- جمع مربوط به شکل های زیر را بنویس.



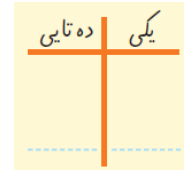
$$\dots + \dots = \dots$$

۴- جدول زیر را کامل کن.

۸	۵	۷	۴	۳			۲	۹
۳		۱	۹	۵	۲	۴	۷	۸
	۴	۲	۶		۸	۳	۱	۵
۴	۱	۵	۲	۶	۷	۹	۸	۳
۲	۹	۶	۵	۸	۳	۷	۴	۱
۷	۳			۹	۴		۵	۶
۱	۲			۴	۶	۵	۳	۷
۵	۸	۳	۷	۲	۹	۱	۶	۴
۶	۷	۴	۳	۱			۹	۲

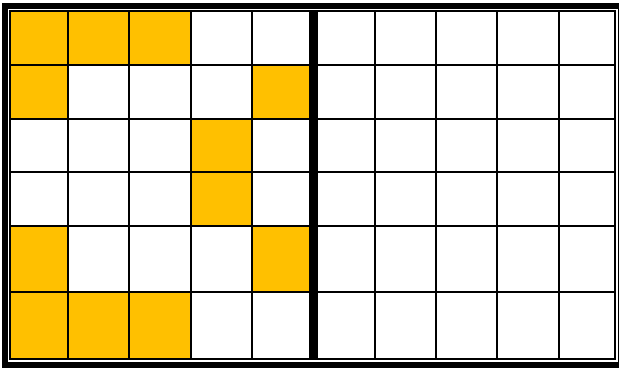


۵- با توجه به شکل ها ، جاهای خالی را با عدد مناسب کامل کن .
مشاوره تحصیلی **تحصیلکو**

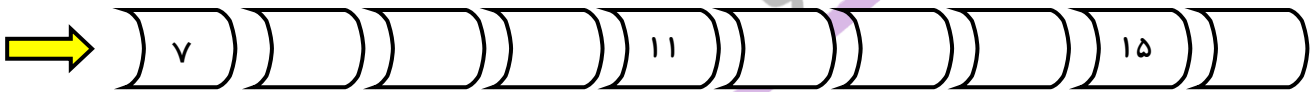


.....


۶- شکل را طوری کامل کن که دو نیمه مثل هم شود .



۷- به ترتیب از عدد ۷ تا ۱۶ بنویس .



۸- به تعداد شکل ها چوب خط کشیده و عدد مربوط به آن را بنویس .



۹- حاصل جمع های زیر را به دست آورید .

$$۴ + ۵ =$$

$$۸ + ۵ + ۴ =$$

$$۷ + ۶ =$$

ارزیابی آموزگار : عالی خوب قابل قبول نیاز به تلاش بیشتر

				توانایی شمارش و مقایسه اعداد
				توانایی جمع و تفریق
				توانایی کامل کردن جدول سودوکو
				توانایی تشخیص و نوشتن اعداد بالای
				قرینه یابی