


۱ دانش آموز عزیز به تعداد عدد نوشته شده مربع رنگ کن و عددهای ستون های رنگ شده را بنویس .

۶		۰	۸		۲		۵	۷	۳

۲

الگوهای زیر را ادامه دهید.



۳

اندازه مدادها چند چینه است در مقابله بنویس .



		<input type="text"/>
		<input type="text"/>
		<input type="text"/>

۴



با استفاده از شابلون الگوی رسم شده را ادامه بده .



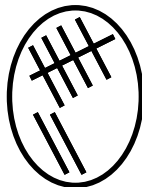

عدد هر دسته را بنویس و از علامت کمتر - بیشتر (>) یا مساوی (=) به طور صحیح استفاده کن .

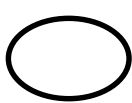

















مربع های شگفت انگیز زیر را کامل کنید .

۳	۱	۲	۸	۹		۴	۷	۶
۵	۶	۹	۱		۷		۸	۲
	۸	۷	۲	۶	۳	۵	۱	۹
۹	۵		۷	۳	۶	۲	۴	
۷	۲	۸		۱	۴	۶		۳
۶	۳	۴	۹	۸	۲		۵	۷
	۴	۵	۶	۷	۹	۸	۳	۱
۱	۷	۶	۳	۵		۹	۲	۴
۸		۳	۴	۲	۱	۷	۶	۵

موفق باشید

اظهار نظر و بازخورد آموزگار :