







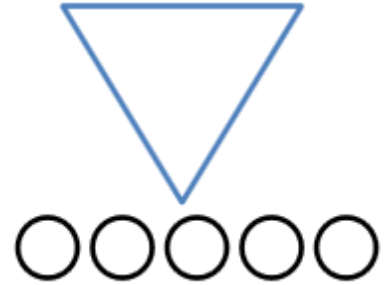
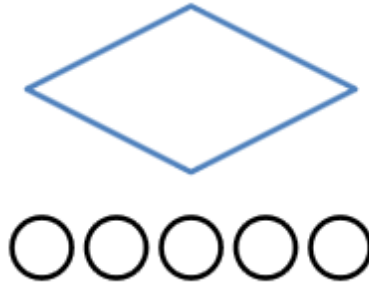
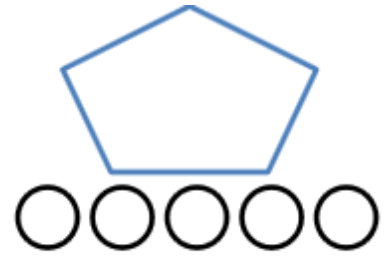
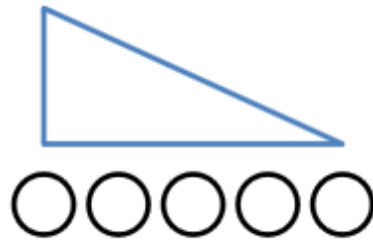


سؤالات	ردیف
<p style="text-align: center;">تشریحی</p> <p style="text-align: center;">۱ بین دو عدد علامتی را که مناسب است بگذار. (< = >)</p> <div style="display: flex; justify-content: space-around; align-items: flex-start;"> <div style="border: 1px solid black; border-radius: 15px; padding: 5px; width: 150px; text-align: center;">۸ ۱۰</div> <div style="border: 1px solid black; border-radius: 15px; padding: 5px; width: 150px; text-align: center;">۳۰ ۲۰</div> <div style="border: 1px solid black; border-radius: 15px; padding: 5px; width: 150px; text-align: center;">۶۰ ۹۰</div> </div> <div style="display: flex; justify-content: space-around; align-items: flex-start; margin-top: 20px;"> <div style="border: 1px solid black; border-radius: 15px; padding: 5px; width: 150px; text-align: center;">۴۰ ۴۰</div> <div style="border: 1px solid black; border-radius: 15px; padding: 5px; width: 150px; text-align: center;">۸۰ ۵۰</div> <div style="border: 1px solid black; border-radius: 15px; padding: 5px; width: 150px; text-align: center;">۷۰ ۷۰</div> </div>	۱
<p style="text-align: right;">۲ عدد هر دسته را بنویس.</p> <div style="display: flex; justify-content: space-around; align-items: center;"> <div style="text-align: center;">  <p>○</p> </div> <div style="text-align: center;">  <p>○</p> </div> <div style="text-align: center;">  <p>○</p> </div> </div> <div style="display: flex; justify-content: space-around; align-items: center; margin-top: 20px;"> <div style="text-align: center;">  <p>○</p> </div> <div style="text-align: center;">  <p>○</p> </div> </div>	۲
<p style="text-align: right;">۳ با توجه به شکل ها جمع مربوط به آن ها را بنویس.</p> <div style="display: flex; justify-content: space-around; align-items: center;"> <div style="text-align: center;">  <p>..... + =</p> </div> <div style="border-left: 1px dashed black; padding-left: 10px; text-align: center;">  <p>..... + =</p>  <p>..... + =</p> </div> </div>	۳
<p style="text-align: center;">۴ شاگرد زرنگ، چند شکل بکش و گوشه های آنها را سبز و میله ها را آبی کن.</p>	۴


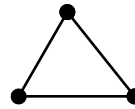
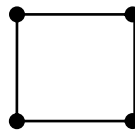
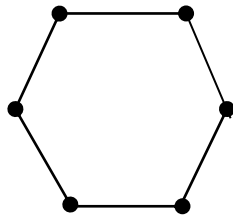
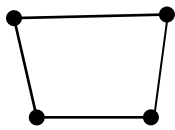
۵ به تعداد لبه های هر شکل از گردی ها رنگ کن.




۶ به حروف یا رقم بنویس.






سی و هفت		پنجاه و شش		نود و یک	
	۶۴		۷۹		۸۲

۷ هر شکل چند گوشه دارد؟ با چند میله درست شده است

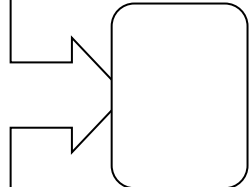
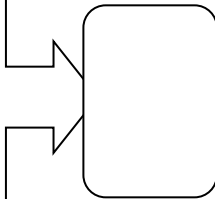
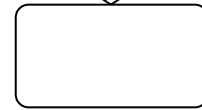




عزیزم به شکل‌ها با دقت نگاه کن و در جدول پایین به تعداد هر شکل چوب خط بکش و عدد مربوط به آن را بنویس.




				
.....

در هر خط بسته چندتا شکل وجود دارد با انگشتان یک دست نشان بده و به تعداد شکل‌های مثل هم از انگشتانت ببند
 به تعداد باقی مانده خوب خط بکش.



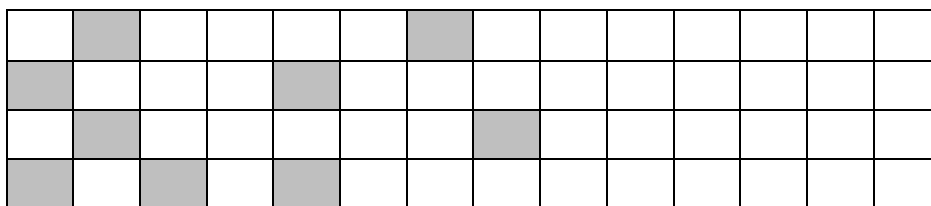
۵ تا ۵ تا رنگ کن و بنویس.



۱۱ در سمت راست آن قدر شکل بکش که تعداد آن با دسته ی سمت چپ برابر شود.



۱۲ الگو را ادامه بده .



۱۳ دور دسته ای که یک الگوی مشخص را نشان می دهد خط بکش و به همان ترتیب شکل ها را رنگ کن.



برای اعداد نوشته شده در جاهای خالی چوب خط بکش و این کار را تا دو مرحله دیگر ادامه بده.

۱۴



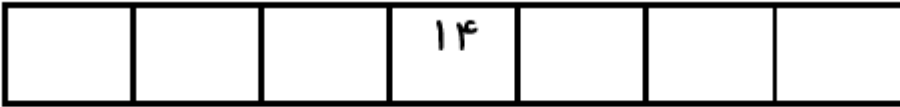
۴

۸

۱۲

قبل و بعد عدد را بنویس.

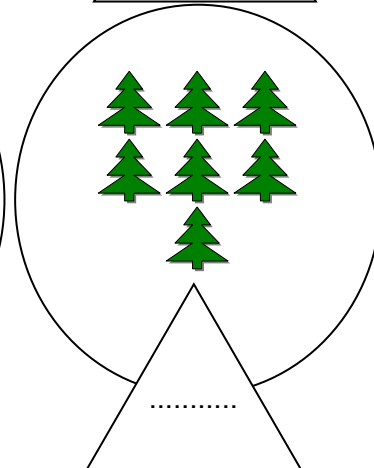
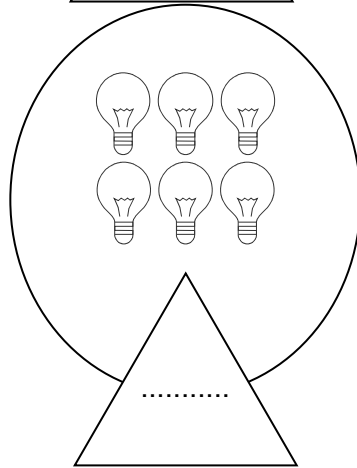
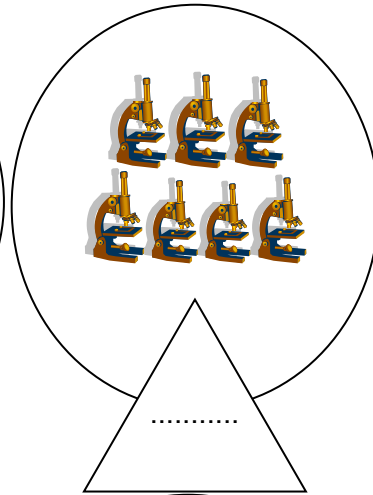

۱۵



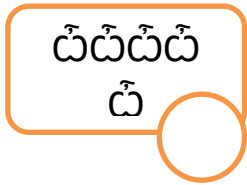
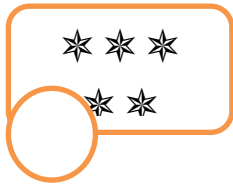


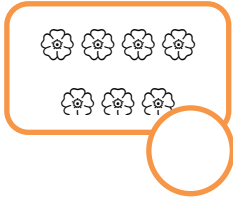

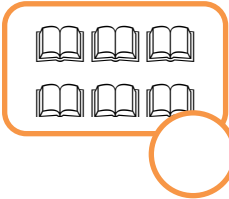

۱۴

عدد مربوط به هر دسته را بنویس و از خانه ها رنگ بزن.

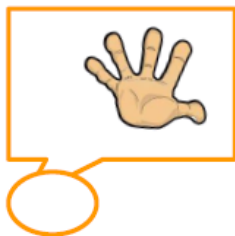
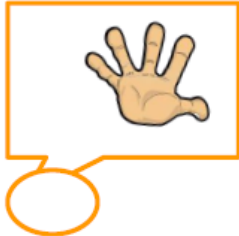
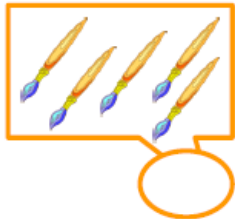
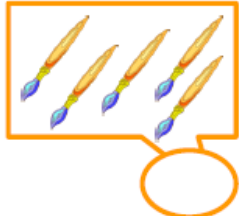
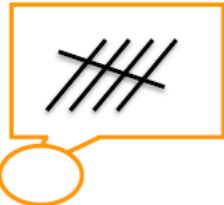
۱۶



عدد هر دسته را بنویس، اگر تعداد شکل های دو طرف برابر است، علامت = بگذار.

عدد هر دسته را بنویس.



	
	
	

عدد مربوط به هر دسته را نوشته و حاصل جمع را بنویس.



۱۹



..... + =



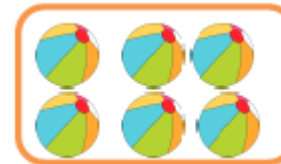
..... + =



..... + =




..... + =



..... + =

عزیزم ، با توجه به عدد هر دسته علامت کمتر - بیشتر را قرار بده .

۲۰



..... <

راهنمای توصیف عملکرد:

نام و نام خانوادگی

سوالات را درک کرده است.

بازخورد معلم:

خودسنجی:

از این آزمون احساس رضایت می‌کنم / نمی‌کنم. زیرا
در این آزمون متوجه شدم که را بهتر یاد گرفته‌ام
و در باید بیشتر مطالعه و دقت کنم.