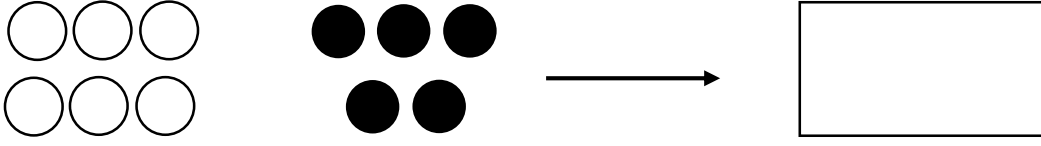
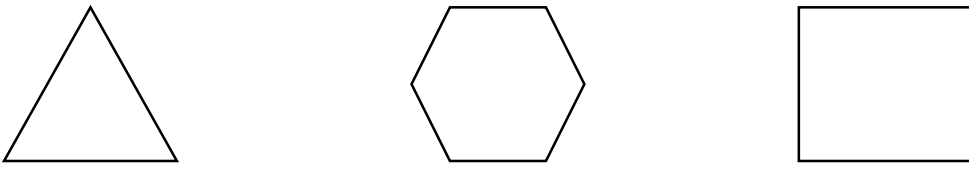
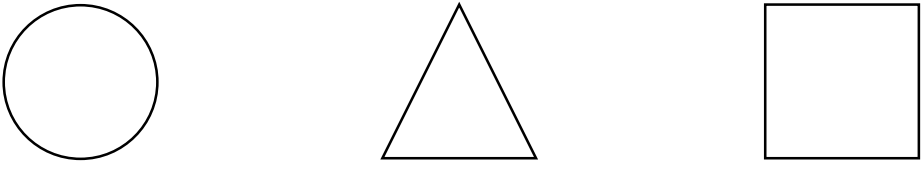





ردیف	سوالات				
۱	<p>شکل‌های هر دو دسته روی هم چندتا می‌شود با چوب خط نشان بده.</p> 				
۲	<p>لبه‌ها را با قرمز و گوشه‌ها را با آبی رنگ بزن.</p> 				
۳	<p>بین هر دو عدد علامت مناسب &lt; = &gt; بگذار.</p> <p>۷۰ ○ ۴۲      ۲۵ ○ ۴۶      ۵ + ۴ ○ ۱۰ - ۱</p>				
۴	<p>در جای خالی عدد مناسب بنویس.</p> <p>۲۰ + ۱۰ + ۴ = .....</p> <p>۵ + ۳۰ + ۵ = .....</p>				
۵	<p>نام هر شکل را بنویس.</p>  <p>.....</p>				
۶	<p>دسته‌های ده تایی بساز و جدول را با توجه به آن کامل کن و در جای خالی عدد مناسب بنویس.</p>  <table style="margin-left: auto; margin-right: auto;"> <tr> <td style="border-right: 1px solid black; padding-right: 5px;">ده تایی</td> <td style="padding-left: 5px;">یکی</td> </tr> <tr> <td style="border-right: 1px solid black; height: 80px;"></td> <td style="height: 80px;"></td> </tr> </table> <p>با عدد: .....</p> <p>با حروف: .....</p>	ده تایی	یکی		
ده تایی	یکی				
۷	<p>از عدد ۴۵ تا ۵۵ بنویس.</p> <p>۴۵ - ..... - ..... - ..... - ۴۹ - ..... - ..... - ..... - ..... - ۵۴ - .....</p>				

جدول را کامل کن.

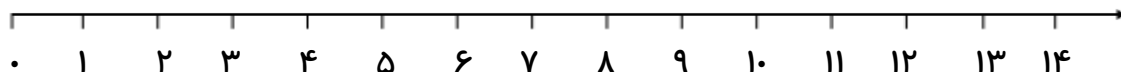
۱۳	.....	۳۵
.....	هشتاد	.....

۸

جمع روبه‌رو را روی محور نشان بده و جواب آن را بنویس.

$$۶ + ۴ = \dots\dots\dots$$

۹



تفریق روبه‌رو را به کمک شکل کامل کن.



۱۰

$$\dots\dots\dots - \dots\dots\dots = \dots\dots\dots$$

زمانی را که ساعت مقابل نشان می‌دهد روی نقطه چین زیر بنویس.



.....

۱۱

الگوی عددی زیر را با دقت ادامه بده.

$$۰ - ۵ - \dots\dots - \dots\dots - \dots\dots - \dots\dots - \dots\dots$$

۱۲

علی ۱۲ مداد آبی و ۵ مداد قرمز دارد. او روی هم چند مداد دارد؟ ( با شکل یا چوب خط نشان بده. )

۱۳

دانش آموز:

خ خ ق ق ن ت

جمع و تفریق را به خوبی انجام می‌دهد.

اعداد را می‌شناسد و قادر به شمارش است.

مسئله را به خوبی درک و آن را حل می‌کند.

نظر والدین:

نظر معلم:

با آرزوی موفقیت برای شما

تعداد سوالات: ۱۳