



مشاوره تحصیلی تمصیلیکو

مشاوره تخصصی ثبت نام مدارس ، برنامه ریزی درسی و
آمادگی برای امتحانات مدارس

برای ورود به صفحه مشاوره مدارس کلیک کنید

تماس با مشاور تحصیلی مدارس

۹۰۹۹۰۷۱۷۸۹



تماس از تلفن ثابت

مشاوره تحصیلی تخصصی **تاهسیلیکو**

نام و نام خانوادگی:

آزمون ریاضی فروردین ۹۷

دبستان دخترانه شهدای صائیران

در هر قسمت عددهای مناسب بنویس .


۱- از عدد ۳۶ تا ۴۶ یکی یکی بنویس .

۲- از عدد ۱۰ تا ۱۰۰ ده تا ده تا بنویس .


۳- از عدد ۱۵ تا ۶۰ پنج تا پنج تا بنویس .

۴- از عدد ۶ تا ۳۶ شش تا شش تا بنویس .

۵- عدد مربوط به هر شکل را با رقم و حروف بنویس .



.....



.....

.....

.....

۱۰- سارا و نرگس می خواستند لباسهای خود را زیر آفتاب خشک کنند. سارا ۱۰ لباس و

نرگس ۴ لباس را روی طناب آویزان کردند. حالا چند لباس روی طناب است؟

..... لباس روی طناب بود.



----- + ----- = -----

۱۱- جاهای خالی را با اعداد مناسب کامل کن.

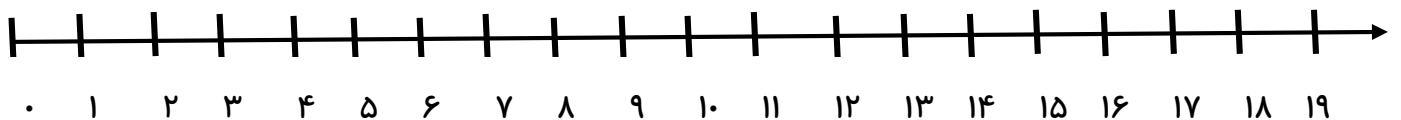
$20 + 10 + 5 + 5 = \square$

$10 + 20 + 5 + 4 = \square$

۱۲- جمع و تفریق را روی محور نشان بده.



$6 + 7 = \dots$



$13 - 5 = \dots$