



مشاوره تحصیلی تمصیلیکو

مشاوره تخصصی ثبت نام مدارس ، برنامه ریزی درسی و
آمادگی برای امتحانات مدارس

برای ورود به صفحه مشاوره مدارس کلیک کنید

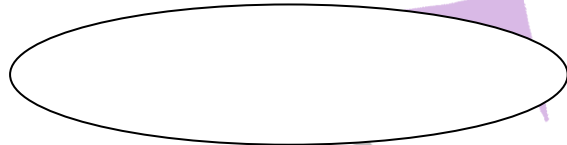
تماس با مشاور تحصیلی مدارس

۹۰۹۹۰۷۱۷۸۹



تماس از تلفن ثابت

1- دختر قشنگم به هر دسته 5 تا اضافه کن و بعد به تعداد کل چوب خط بکش.




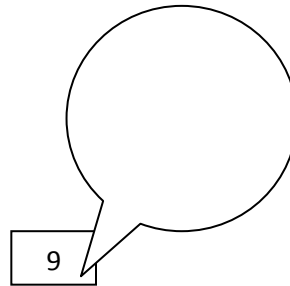
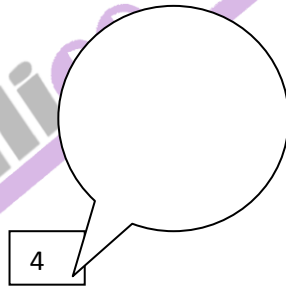

2- عزیزم دور عدد مناسب خط بکش.




1 2 3 4 5

6 7 8 9 10


3- گل زیبا با توجه به عدد داده شده، شکل بکش.



4- الگوی زیر را ادامه بده.



5- نازنینم به تعداد شکل ها چوب خط بکش، جدول را کامل کن و سپس عدد را به رقم و حروف بنویس.



به حروف:

به عدد:

یکی ده تایی

به حروف:

5 - +10

6- مطابق الگو بشمار و بنویس .

45 - -5

7- پرنده کوچولو، جمع و تفریق های زیر را انجام بده.

$10+5+5+2= \dots$

$15-5= \dots$

$13+2= \dots$

$8+7= \dots$

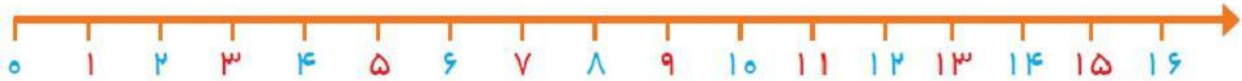
8- میوه ی دلم مربع شگفت انگیز زیر را کامل کن.

۱	۴		۳	۲	۵
۲	۵	۳		۴	۶
۶	۱	۲	۵		۴
۵	۳	۴	۲	۶	
	۶	۱	۴	۵	۲
۴		۵	۶	۱	۳

۵		۴		۲	۶
۶	۳	۲	۱	۴	۵
۴	۶	۳	۵	۱	
۱		۵	۴	۶	۳
	۵	۱	۶		۴
۳	۴	۶	۲	۵	۱



9- دختر زرنگ برای شکل زیر یک تفریق بنویس و با کمک محور آن را حل کن.



10- عزیز دلم در جای خالی علامت مناسب بگذار.

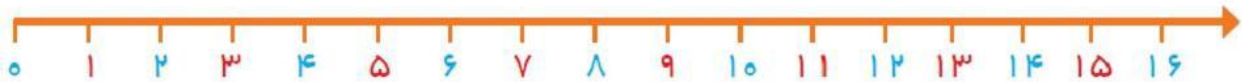
$4 \diamond 4$

$0 \diamond 5$

$72 \diamond 35$

$14 \diamond 41$

11- 3 گنجشک روی درخت نشسته بودند 5 گنجشک دیگر هم آمدند و روی همان درخت نشستند. حالا چند گنجشک روی درخت نشسته است؟ (با کمک محور)



12- فانزه 4 بسته ی ده تایی مداد داشت. 8 تایی دیگر هم از دوستش گرفت. حالا فانزه چند مداد دارد؟

13- طرح فرش زیر را کامل کن.

