



# مشاوره تحصیلی تمصیلیکو

مشاوره تخصصی ثبت نام مدارس ، برنامه ریزی درسی و  
آمادگی برای امتحانات مدارس

برای ورود به صفحه مشاوره مدارس کلیک کنید

تماس با مشاور تحصیلی مدارس

۹۰۹۹۰۷۱۷۸۹



تماس از تلفن ثابت

## شرح سوال

سوال

صدگان	دهگان	یکان
.....	.....	.....

۸۳۲

دهگان	یکان
.....	.....

۵۹

جاهای خالی را کامل کن .

۱

$$۸ + ۱۰ + ۳۰ + ۵ + ۵ = \dots\dots\dots$$

$$۲۰ + ۱۵ + ۳۰ + ۵ + ۱۵ = \dots\dots\dots$$

حاصل جمع های زیر را بدست بیاور .

۲

در جای خالی عدد مناسب بنویس .

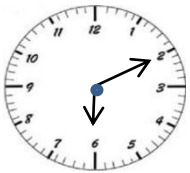
الف ( ۵۲ به چه عددی نزدیک تر است ؟ ۴۰ یا ۵۰ ؟ ) .....

ب ( ۷۹ به چه عددی نزدیک تر است ؟ ۷۰ یا ۸۰ ؟ ) .....

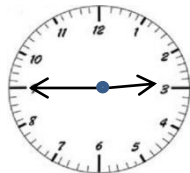
۳

ساعت چند است ؟ بنویس .

۴



ساعت ..... و ..... دقیقه



ساعت ..... و ..... دقیقه

اشکال زیر را رسم کن و تعداد ضلع ها و گوشه های هر یک را بنویس .

دایره	مثلث	مربع	مستطیل	رسم شکل
				تعداد ضلع
				تعداد گوشه

۵



ریال .....



ریال .....



کیسه ها را بشمار و بنویس چند ریال است .

۶

اعداد زیر را به رقم و حروف بنویس .

..... ۶۰۲

پانصد و هفتاد .....

..... ۹۴۰

ششصد و نود و یک .....

۷

حسین ۴۰۰ ریال و مجید ۳۰۰ ریال را در صندوق انداختند . آن ها با هم چند ریال در صندوق انداخته اند ؟

۸

خط های زیر را با خط کش اندازه بگیر و بنویس چند میلی متر است .

..... میلی متر

www.Tahsilico.com

..... میلی متر

۹

## مشاوره تحصیلی **تحصیلیکه**

با عدد های ۹، ۲، ۵ تا می توانی اعداد ۳ رقمی بنویس و دور آن هایی که یکان آن ها ۲ است خط بکش .

۱۰

حاصل جمع و تفریق های زیر را بدست بیاور . تکنیکی فرایندی

$\begin{array}{r} ۶۵۱ \\ + ۲۳۲ \\ \hline \end{array}$	$\begin{array}{r} ۵۹۲ \\ + ۲۲۱ \\ \hline \end{array}$	$\begin{array}{r} ۴۹۲ \\ - ۲۵۱ \\ \hline \end{array}$	$\begin{array}{r} ۴۲۸ \\ - ۱۱۹ \\ \hline \end{array}$
---	---	---	---

۱۱

عدد ها را مقایسه کن و علامت مناسب  $< = >$  بگذار .

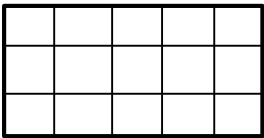
$۱۰۰ + ۳۰۰$  ○  $۲۰۰ + ۲۰۰$

$۲۰۰ + ۷$  ○  $۲۲۰$

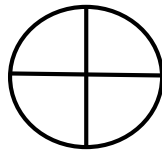
$۳۱۶$  ○  $۴۱۵$

۱۲

با توجه به عبارت نوشته شده ، شکل را رنگ بزن .



۶ قسمت از ۱۵ قسمت



۲ قسمت از ۴ قسمت

۱۳



در جعبه ی مداد رنگی ۲ مداد قرمز ، ۵ مداد آبی و ۳ مداد سبز وجود دارد .

چه کسری از مداد ها قرمز است ؟

چه کسری از مداد ها آبی است ؟

چه کسری از مداد ها سبز است ؟

۱۴


تعداد دانش آموزان شرکت کننده در رشته های ورزشی یک باشگاه به صورت زیر است .

رشته	والیبال	بسکتبال	فوتبال	کاراته	شنا	ژیمناستیک
تعداد	۶۳	۴۸	۳۳	۳۴	۳۸	۲۱
تعداد تقریبی	.....	.....	.....	.....	.....	.....

ابتدا تعداد تقریبی دانش آموزان را بنویس و نمودار را با نشان دادن هر ۱۰ نفر با شکل  کامل کن .



۱۵



باز خورد معلم

خیلی خوب ○ خوب ○ قابل قبول ○ نیاز به تلاش بیشتر ○

ارزشیابی توصیفی