



مشاوره تحصیلی تمصیلیکو

مشاوره تخصصی ثبت نام مدارس ، برنامه ریزی درسی و
آمادگی برای امتحانات مدارس

برای ورود به صفحه مشاوره مدارس کلیک کنید

تماس با مشاور تحصیلی مدارس

۹۰۹۹۰۷۱۷۸۹



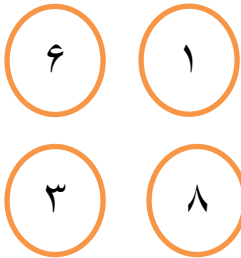
تماس از تلفن ثابت

مشاوره تحصیلی تحصیلیکو

به نام خالق هستی

سال تحصیلی

سؤالات ریاضی پایه دوم



۱ - در شکل رو به رو چهار عدد می بینی حاصل جمع کدام جفت از

این اعداد برابر ۷ می شود؟

با این دو رقم چند عدد دو رقمی می توان نوشت آن ها را بنویس؟

حاصل تفریق کدام جفت از این اعداد برابر ۷ می شود؟

با این دو رقم چند عدد دو رقمی می توان نوشت آن ها را بنویس؟

حاصل جمع کدام جفت از این اعداد برابر ۱۴ و حاصل تفریق شان برابر ۲ می شود؟

با این دو رقم چند عدد دو رقمی می توان نوشت آن ها را بنویس؟

۲ - مرغی ۴ تا جوجه دارد . این مرغ چند روز قبل ۹ تا تخم گذاشت .

امروز ۳ تا از تخم ها ترک خوردند و جوجه ها از آن بیرون آمدند . حالا این مرغ چند جوجه دارد؟

۳ - مریم ۸ ساعت در شبانه روز می خوابد و ۶ ساعت مطالعه می کند . او در شبانه روز چند ساعت می تواند

اوقات فراغت داشته باشد؟

۴ - عددهای دو رقمی را به هم و عدد های یک رقمی را به هم وصل کن و علامت بدست آمده را بنویس .

۷۸

۱۳

۵

۹

۵ - به کارت های زیر نگاه کن و به سؤالات پاسخ بده .



با کارت های مثلث چند عدد دو رقمی می توان نوشت آن ها را بنویس ؟

با کارت های مستطیل چند عدد دو رقمی می توان نوشت آن ها را بنویس ؟

با دوکارت های دایره و شش ضلعی چند عدد دو رقمی می توان نوشت آن ها را بنویس ؟

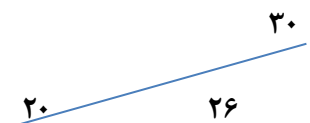
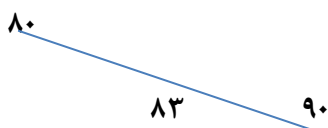
با دو کارت های شش ضلعی و لوزی چند عدد دو رقمی می توان نوشت آن ها را بنویس ؟

با سه کارت های شش ضلعی و دایره چند عدد دو رقمی می توان نوشت آن ها را بنویس ؟

۶ - دایره ها را با اعداد ۱-۲-۳-۴-۵ به گونه ای پر کن که جمع اعداد روی هر خط در شکل سمت چپ برابر ۷ و جمع اعداد روی هر خط در شکل سمت راست برابر ۱۰ باشد .



۷ - عدد های وسط به کدام عدد نزدیک تر است . آن را رنگ کن



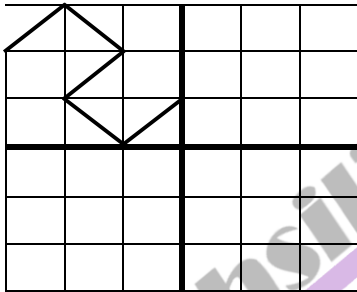
۸- جدول زیر را با اعداد ۱ تا ۹ پر کن که جمع هر سطر و هر ستون برابر عددی باشد که کنار آن سطر و ستون نوشته شده است.

۴		۷	۱۴
			۱۹
۹		۳	۱۴
۱۸	۹	۱۸	

۹- عدد های زیر را از کوچک به بزرگ مرتب کن سپس حروف بالای آن را پیش هم بگذار و رمز را پیدا کن .

ی ن ب ت ا ا س ای ر ز
۷۵ - ۴۸ - ۷۹ - ۱۰۰ - ۸۹ - ۳۴ - ۹۶ - ۱۹ - ۲۱ - ۶۴

۱۰- نیمه ی دیگر شکل را با توجه به خط تقارن کامل کن .



۱۱- - امید ساعت ۷:۳۵ از خانه خارج می شود او ۱۵ دقیقه بعد به مدرسه می رسد . امید ساعت چند به مدرسه می رسد ؟ (ساعت را بکش)



مشاوره تحصیلی تحسیلیکو

۱۲ - با رقم های ۴ - ۸ - ۶ دو عدد سه رقمی بنویس که صدگان آن ۸ باشد .

۱۳ - اعداد زیر را به رقم و به حروف بنویس و اعدادی که یکان مساوی دارند را با خط کش به هم وصل کن .

چهار صد و سی و نه : ☆ ☆ : صد و سی و سه

دویست و بیست : ☆ ☆ : ۳۰۹

۶۶۳ : ☆ ☆ : ۶۰۰

۱۴ - من چه عددی هستم ؟ یکانم کوچک ترین عددیک رقمی و دهگانم بزرگ ترین عددیک رقمی و صدگانم سه تا کم تر از دهگانم است . مرا به رقم و حروف بنویس .

با رقم های من دو عدد سه رقمی دیگر بنویس .

۱۵ - یک عدد سه رقمی بنویس که بین اعداد ۱۶۰ و ۱۷۰ باشد به طوری که یکان آن از دهگانش بزرگ تر باشد .

۱۶ - محمد ۶ بسته ده تایی و ۹ یکی مداد داشت . او دو بسته ده تایی و ۵ یکی مداد را به دوستش داد . حالا محمد چند مداد دارد ؟ محمد ۱۲ تا از مداد ها را هم خودش مصرف کرد . حالا برای او چند تا باقی مانده است ؟

۱۷ - مسئله زیر را با استفاده از دو راه که یاد گرفته ای حل کن .

مریم در روز تولدش ۲۸ شیرینی در داخل ظرفی که ۳۴ شیرینی داشت گذاشت . حالا در ظرف شیرینی چند تا شیرینی است ؟ (راهی را که بهتر است بیان کن و بنویس)

راه دوم

راه اول

مشاهده تحصیل، تحصیلک

۱۸ - احمد یک سکه ی ۲۵۰ ریالی و سه سکه ی ۱۰۰ ریالی و دو سکه ی ۵۰ ریالی و یک سکه ی ۵ ریالی داشت .

الف (سکه ها را با شکل نشان بده .

ب (بگو احمد چند ریال پول دارد .

۱۹ - عدد مقابل را در جدول ارزش مکانی قرار داده و با شکل نشان بده . ۳۶۹

ارزش کدام رقم بیش تر است ؟

۲۰ - چهار ضلعی بکش که ضلع های آن دو به دو به هم مساوی باشد .

خط تقارن آن را رسم کن و بنویس چند خط تقارن دارد ؟

۲۱ - جمله های مربوط به شکل ها را به هم وصل کن .



به مربع شباهت دارد و هر چهار ضلعش برابر است .

سه گوشه و سه ضلع دارد .

هر چهار ضلع آن با هم برابر است .


۲۲ - کدام یک از وسایل کلاس شما شکل دایره و کدام به شکل مستطیل است ؟

نام آن ها را جلوی شکل ها بنویس .

: ○

: □

۲۳ - اگر ساعت ۵ و ربع باشد سه ساعت قبل ساعت چند بوده است ؟ روی شکل نشان بده .



۲۷۵ ریال

۲۴ - با توجه به قیمت کتاب سکه های لازم را جدا کن ؟



۲۵ - تفریق ۸ - ۱۴ را با چوب خط یا محور می توانی انجام داد . آن را انجام بده . (حل کن)

$$۶۰ + ۳۰ =$$

۲۶ - برای جمع مقابل یک محور بکش و حاصل آن را بنویس .

۲۷ - قبل و بعد عدد های زیر را بنویس .

۱۵۵ - - - - ۱۵۱ - - - -

کم ترین و بیش ترین عدد را بنویس .

کم ترین : بیش ترین :

۲۸ - اندازه ی مداد ت و کتاب کار فارسی را بگیر و بگو چند سانتی متر و چند میلی متر است

مداد :

کتاب کار فارسی :

۲۹ - از عدد صفر خط کش قسمت های کوچک را بشمار و به سؤالات زیر پاسخ بده .

هفتمین قسمت یعنی میلی متر

۱۴ میلی متر یعنی سانتی متر و میلی متر

۳۸ میلی متر یعنی سانتی متر و میلی متر

۵ سانتی متر و ۲ میلی متر یعنی میلی متر