



مشاوره تحصیلی تمصیلیکو

مشاوره تخصصی ثبت نام مدارس ، برنامه ریزی درسی و
آمادگی برای امتحانات مدارس

برای ورود به صفحه مشاوره مدارس کلیک کنید

تماس با مشاور تحصیلی مدارس

۹۰۹۹۰۷۱۷۸۹




تماس از تلفن ثابت

نام و نام خانوادگی : دبستان : تاریخ : / /

مشاوره تحصیلی **تحصیلیکو**



کدام شکل ها به قسم های مساوی تقسیم شده است ؟ علامت \times بگذار .



ص	د	ی
---	---	---

عددی سه رقمی بنویس که ۷ صدتایی و ۸ ده تایی داشته باشد . در جدول قرار بده

بارقم : باحروف :


عدد را در مربع قرار بده ، ده تا ده تا بشمار و جاهای خالی را پر کن .



..... - - - - - - - - -



با توجه به شکل رو به رو به سوالات زیر پاسخ بده .



شکل به قسمت مساوی تقسیم شده است .

..... قسمت از قسمت مساوی این شکل سیاه است .

..... قسمت از قسمت مساوی این شکل سفید است .



مسئله : کتاب داستان آروین ۲۳۵ صفحه دارد . او ۱۸۰ صفحه از کتاب داستانش را خوانده است . آروین چند صفحه از

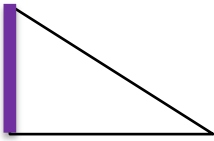
کتاب داستانش را نخوانده است ؟

قدّ دانیال ۱۲۹ سانتی متر و قدّ محمد ۱۳۱ سانتی متر است . قدّ هر دو نفر چند سانتی متر است ؟

در شمارش ۸ تا ۸ تا ، عدد بعد از ۲۴ چه عددی است ؟

- الف (۱۶) ب (۳۲) ج (۲۸) د (۴۰)

در شکل رو به رو خطی که پررنگ شده است چه نام دارد ؟



- الف (ضلع) ب (گوشه) ج (تقارن) د (نقطه)

در یک کیسه ۸ مهره ی آبی و ۵ مهره ی قرمز انداخته ایم . اگر بدون این که به داخل کیسه نگاه کنیم یک مهره بیرون بیاوریم احتمال این که آن مهره آبی باشد بیشتر است یا قرمز ؟ چرا ؟

پارسا ربع ساعت صبحانه خورد و بعد از آن ۵ دقیقه مسواک زد . این دو کار او چند دقیقه طول کشیده است ؟

- الف (۱۵ دقیقه) ب (۲۵ دقیقه) ج (۲۰ دقیقه) د (۳۰ دقیقه)

بزرگترین عدد سه رقمی که یکان آن ۷ باشد . کدام عدد است ؟

- الف (۹۷۸) ب (۹۹۷) ج (۷۸۹) د (۸۹۷)

عدد ۷۸ تقریباً به کدام عدد نزدیک تر است ؟

- الف (۷۵) ب (۸۰) ج (۹۰) د (۷۰)

جمع و تفریق های زیر را به صورت کوتاه و گسترده پاسخ انجام بده .

گسترده (فرایندی)

$$\begin{array}{r} 1 \ 5 \ 4 \\ + 5 \ 9 \ 9 \\ \hline \end{array}$$

$$\begin{array}{r} 6 \ 6 \ 6 \\ - 5 \ 7 \ 8 \\ \hline \end{array}$$

کوتاه (تکنیکی)

$$\begin{array}{r} 4 \ 6 \ 6 \\ + 2 \ 3 \ 9 \\ \hline \end{array}$$

$$\begin{array}{r} 8 \ 1 \ 4 \\ - 3 \ 2 \ 3 \\ \hline \end{array}$$

کامل کن . ۳ سانتی متر و ۶ میلی متر برابر است با میلی متر .

هر کدام از اعداد زیر را به خانه ی مربوط به خود وصل کن .



۴۱

۳۴۵

۱۳۶


۹۲

۱۸

۶۷




تعداد هر قسمت را با کامل کردن جاهای خالی مشخص کن .



مشاوره تحصیلی تخصصی

..... تا تایی می شود




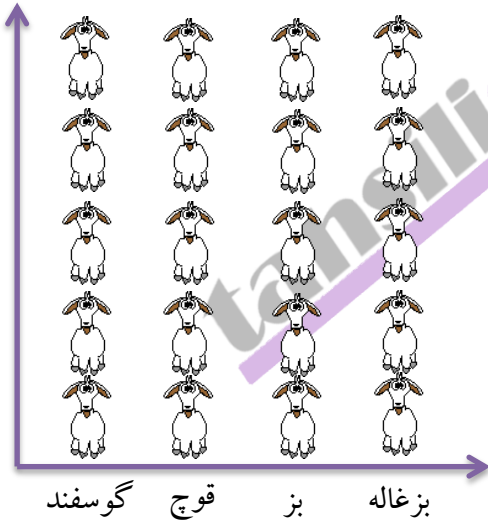
..... تا تایی می شود



..... تا تایی می شود

آمار حیوانات موجود در یک مزرعه در جدول زیر آمده است . ابتدا تعداد تقریبی حیوانات را به دست آورده و جدول را کامل کن .

اگر هر ۱۰ حیوان را با  نشان دهیم . نمودار زیر را کامل کن . (رنگ بز)



نام حیوان	گوسفند	قوچ	بز	بزغاله
تعداد حیوان	۴۶	۲۱	۳۸	۱۷
تعداد تقریبی				

بازخورد آموزگار :